



T.C.
MİLLÎ EĞİTİM BAKANLIĞI
ÖLÇME, DEĞERLENDİRME VE SINAV HİZMETLERİ GENEL MÜDÜRLÜĞÜ

2018 - 2019 ÖĞRETİM YILI
Sınavla Öğrenci Alacak Ortaöğretim Kurumlarına
İlişkin Merkezî Sınav Yönelik
Mart Ayı Örnek Soruları
(SÖZEL BÖLÜM)

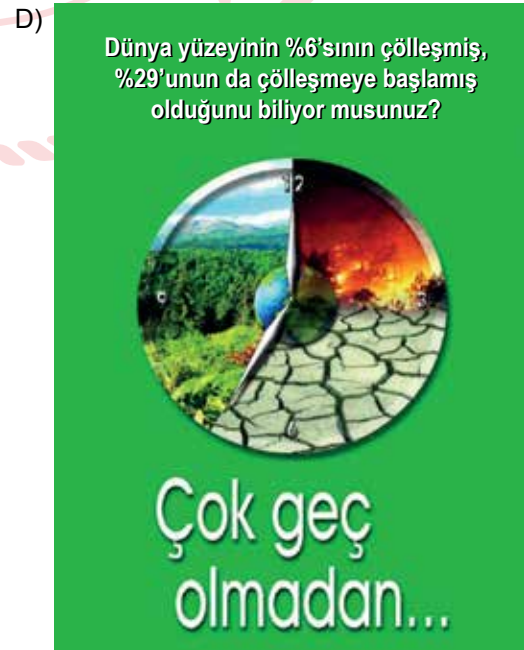
- Bu kitapçıkta sözel bölüme ait örnek sorular bulunmaktadır.
 - Türkçe : 10 soru
 - T. C. İnkılap Tarihi ve Atatürkçülük : 5 soru
 - Din Kültürü ve Ahlak Bilgisi : 5 soru
 - İngilizce : 5 soru



Türkçe Örnek Soruları

1. Belli bir bölgedeki bitki ve hayvan türlerinin zenginliğine "biyoçeşitlilik" denir. Gezegenimizi yaşanabilir hâle getiren biyoçeşitlilik, insanların sağlığını ve çevreyi korur. Biyoçeşitliliğin korunması için alınabilecek önlemlerden bazıları şunlardır:
- Tarım ilacı ve deterjan gibi kimyasal maddelerin kullanımı konusunda bilinçlendirme çalışmaları yapılmalıdır.
 - Biyohırsızlığa (bitki ve hayvan kaçakçılığı) yönelik önlemler alınmalıdır.
 - Doğal yaşam alanları ve su kaynakları korunmalıdır.
 - Organik tarım tercih edilmeli ve desteklenmelidir.
 - Ormanların tahrip edilmesinin önüne geçilmelidir.

Bu metne göre aşağıdaki afişlerden hangisi biyoçeşitliliğin korunması ile ilgili değildir?



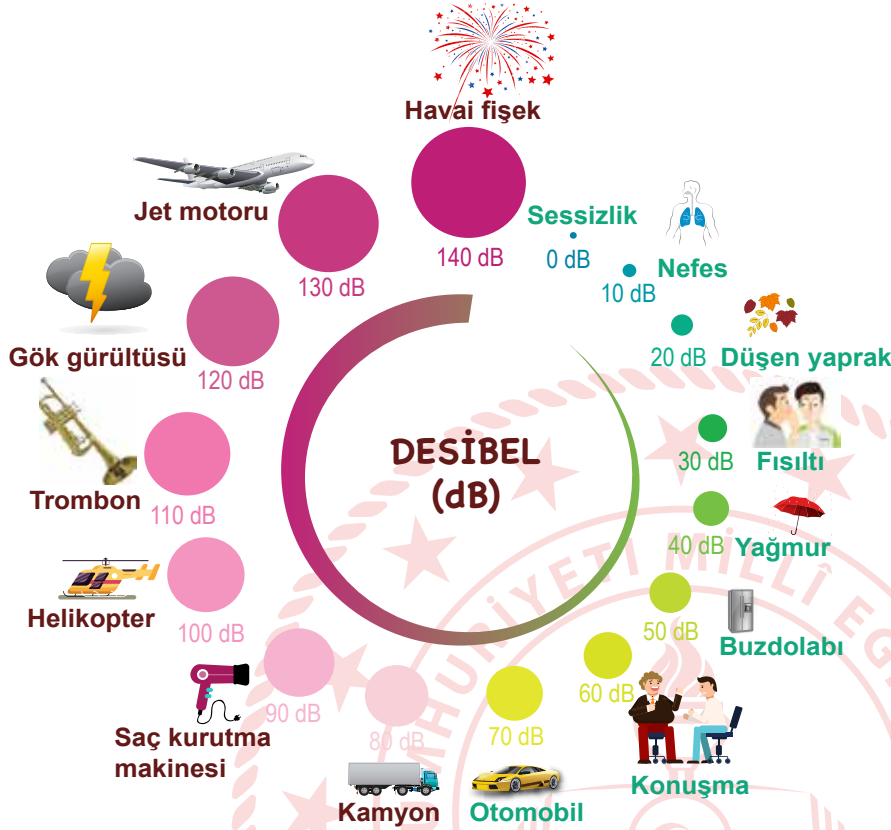
2. • Ateş, düştüğü yeri yakar.
• Ayağını yorganına göre uzat.
• Güneş balçıkla sıvanmaz.
• Ağaç, yaprağıyla gürler.

Aşağıdakilerden hangisi, bu atasözlerindeki altı çizili sözcüklerin karşıladığı anlamlardan biri değildir?

- A) Gerçekler
B) Dert
C) Akraba
D) Meslek



3. Desibel, ses şiddetini ölçmek için kullanılan bir birimdir. Uzmanlar, 85 desibel üzerindeki bir sesle sürekli karşı karşıya klanlarda işitme bozukluğunun oluşabileceği konusunda hemfikir. Aşağıdaki grafikte canlı ve cansız bazı varlıkların çıkardığı seslerin desibeli gösterilmiştir.




Bu bilgi ve görselden hareketle aşağıdakilerin hangisine ulaşamaz?

- A) Helikopter sesinin desibeli, trombonunkinden düşüktür.
- B) Jet motorunun sesine uzun süre maruz kalmak işitme bozukluğuna yol açabilir.
- C) Düşen yaprağın ses şiddeti insan nefesininkinden yüksektir.
- D) Kamyon ve otomobillerin geçtiği bir yolda durmak işitme kaybına neden olabilir.

4. Varlıkların, okuyucunun gözünde canlanacak şekilde, resim çizer gibi anlatılması olarak tanımlanan betimleme, açıklayıcı ve sanatsal olmak üzere iki başlık altında incelenir. Açıklayıcı betimlemede varlıkların olduğu gibi tanıtılması amaçlanır, kişisel düşüncelere yer verilmez. Görsellikten çok, izlenim ve sezgilerin ağır bastığı sanatsal betimlemede ise yazar, anlatımına duygu ve yorumlarını da katar.

Bu metne göre aşağıdakilerin hangisinde açıklayıcı betimleme yapılmıştır?

- A) Gitgide kararan bulutsuz gökyüzünün altında, Dolmabahçe Sarayı'nın önündeki lokantanın terasında oturuyorduk. Lokantadaki bütün masalar doluydu. Arada bir geçmekte olan vapurların oluşturduğu dalgalar da olmasa durgundu deniz. Kıyıda bir çocuk, martılara ekmek atıyordu.
- B) Mavinin değişik tonları ile boyanmış resimde farklı yollar çizilmişti: dağların arasından geçen bir patika, nehrin üzerine kurulu bir asma köprü, evlerin arasından büyük bir meydana uzanan Arnavut kaldırımları, uçsuz bucaksız çölde güneşe kadar uzanan gümüşten bir asfalt...
- C) Gelinin başında sıra sıra altın ve incilerle süslenmiş bir fes vardı. İki demet sarı tel, yanaklarının üstüne çaresizce uzanıyordu. Onu bugünün hürmetine tahta bir iskemleye oturtmuşlardı. Şaşkın ve nemli gözlerle etrafı süzüyor fakat daha ziyade önüne bakarak bu anın bitmesini bekliyordu.
- D) Vahanın altından, zeytinyağı renginde, elinizi sürseniz bulaşacağını sandığınız koyu bir çay akar. Çayın kenarında, yapraklarının ters tarafları rüzgârla güneşe dönünce parlayan narin kavaklar dizili, kof gölgeler serilidir. İncecik, yumuşak ve sık otlarla kaplı yamaçlar heybetli görünmeye çalışır.



5.



KULLANMA TALİMATI

- I. Bu ilaç, enfeksiyonların tedavisinde kullanılır ve enfeksiyona neden olan bakterileri etkisiz hâle getirir.
- II. İlaç toz hâlinde olduğundan ilaca, etiket üzerinde işaretli çizginin yaklaşık yarısına denk gelecek kadar su ekleyerek şişeyi iyice çalkalayınız.
- III. Deri yüzeyinin altında küçük noktalar şeklinde kırmızı yuvarlak beneklerin oluşması durumunda ilacı kullanmayı bırakınız.
- IV. Mide ve bağırsak rahatsızlıkları ihtimalini en aza indirmek için yemekten önce alınmalıdır.



Aldığı ilacı nasıl kullanması gerektiğini bilmeyen bir kişi, kullanma talimatında numaralanmış ifadelerin hangilerine dikkat etmelidir?

A) I ve III.

B) I ve IV.

C) II ve III.

D) II ve IV.

- 6.
- Tüm dizelerin sonunda ses benzerliđi vardır.
 - İnsan dışındaki bir varlığa insana ait özellik yüklenmiştir.
 - Bütün dizelerin hece sayıları eşittir.

Aşağıdaki dörtlüklerden hangisi bu özelliklerin tümünü içerir?

- A) İçimiz sevgi dolu, neşeler saçacağız
Beyaz güvercin olup göklerde uçacağız
Dünyaya, insanlığa barış dağıtacağız
Bugün küçüğüz ama yarın büyüyeceğiz
- B) Yuvası saçakta kalan kırlangıç
Yavrusu dallara emanet serçe
Derken camiler üstünde güvercin
Minareler katından geçiyorum
- C) Yürüyordum, ağlıyordu ırmaklar
Yürüyordum, düşüyordu yapraklar
Yürüyordum, sararmıştı yaylalar
Yürüyordum, ekilmişti tarlalar
- D) Yaşamak güzel şey doğrusu
Üstelik hava da güzelse
Hele gücün kuvvetin yerindeyse
Elin ekmek tutmuşsa bir de



7. Üçgen, yıldız ve daireden oluşan bir kodlama sisteminde A, Ç, I, K, R harfleri aşağıdaki gibi gösterilmiştir.

A	▲★★
Ç	★▲
I	▲★
K	★▲▲
R	★●▲★

Buna göre aşağıdaki beş harfli kelimelerden hangisi “★▲▲★●▲★▲★▲★▲▲” şeklinde kodlanır?

A) KIRAK

B) KIRAÇ

C) ÇIRAK

D) ÇARIK



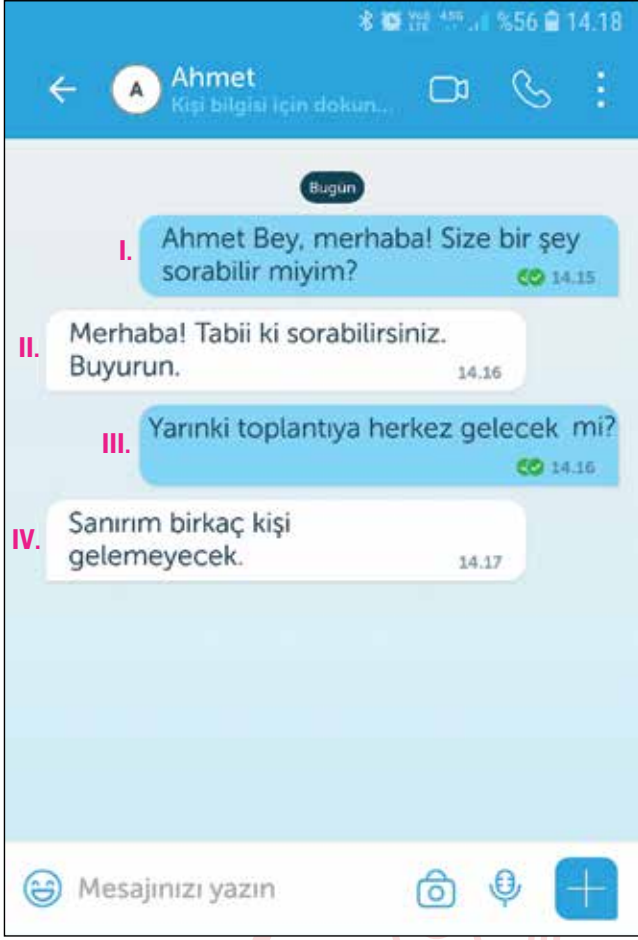
8. Tokyo Üniversitesinde görev yapan Prof. Dr. Hidesaburo Ueno, 1924'te bir köpek yavrusu bulur ve onu sahiplenir. Köpeğe, Japoncada "sekizinci" anlamına gelen "Haçiko" adını koyar. Safkan akita cinsinden olan Haçiko, her sabah üniversiteye gitmek için evden metroya kadar yürüyen sahibine eşlik eder. Metronun dış kapısına kadar getirdiği sahibini uğurlayıp eve döner. Belli bir müddet sonra sahibinin eve dönüşünü de metronun önünde beklemeye başlayan Haçiko, bir yıl boyunca saati şaşırımsızın her sabah, sahibini metroya kadar götürür; her akşam iş çıkışında da metronun önünde karşılar. Bir akşam Ueno, metrodan çıkmaz. Haçiko, gözleri metronun kapısında gece boyunca bekler. Bu bekleyiş dokuz yıl boyunca devam eder. Bugün Tokyo'ya gidenlerin Shibuya İstasyonu'nun kapısında karşılaştığı köpek heykeli Haçiko'ya aittir. Çünkü Japonlar, Haçiko'yu bir vefa sembolü olarak benimsemiştir.

Bu metinde Haçiko ile ilgili aşağıdakilerden hangisine değinilmiştir?

- A) Ne zaman doğduğuna
- B) Heykelinin niçin dikildiğine
- C) Çok zeki olduğuna
- D) Adının neden Haçiko konduğuna



9.



Bu yazışmada numaralanmış bölümlerin hangisinde bir yazım yanlışı vardır?

A) I.

B) II.

C) III.

D) IV.

10. Aşağıda sinema filmi yapımının, sırasıyla “Geliştirim”, “Yapım Öncesi”, “Yapım”, “Yapım Sonrası” ve “Dağıtım” başlıkları altında incelenen beş aşaması karışık olarak verilmiştir.

- I. Düzgün ve kolay bir film çekimi için iyi bir hazırlık gerekir. Bu aşamada senaryoya uygun oyuncular belirlenir, dekorlar ve kostümler hazırlanır.
- II. Filmin hangi sinemalarda, ne zaman gösterime gireceğine karar verilir ve belirlenen sinema salonlarında gösterimi tamamlandıktan sonra farklı ortamlarda satışı başlar. Bazı filmler de festivallere gönderilir.
- III. Çekimi tamamlanan sahneler bilgisayarda kurgulanır, filme görüntü ve ses efektleri ile müzik eklenir. Yapım ekibinin kontrolünden sonra film, izleyici ile buluşmaya hazır hâle gelir.
- IV. Her film bir fikirle başlar. Bu fikir; önce bir öyküye, sonra senaryoya ve daha sonra resimli taslağa dönüştürülür. Filmde, özel efektler ve fantastik öğeler kullanılacaksa bunları ekibin anlayacağı şekilde çizecek iyi bir ressam gereksinim duyulur. Daha sonra, masrafları üstlenecek bir yapımcı arayışına gidilir.
- V. Filmin bütün sahneleri, hazırlanan programa uygun şekilde çekilir. Bu sürecin sorunsuz geçmesi için görev dağılımının çok iyi yapılması gerekir.

Bu aşamalar aşağıdakilerin hangisinde doğru sıralanmıştır?

- A) I - IV - V - II - III
C) IV - I - V - III - II

- B) I - V - III - IV - II
D) IV - V - II - I - III



T.C. İnkılap Tarihi ve Atatürkçülük Örnek Soruları

1. Selanik'in karışık sokak aralarında tatlı sürprizlerle karşılaşıldı; kâh yeşilliklerin arasında birdenbire denize açılan manzara-
lar, kâh çocuk sesleri ile Kur'an nağmelerinin taşıdığı sıbyan mektepleri, kâh muntazam vuruşlarla bakır veya demir döven
çekiç seslerinin duyulduğu karanlık atölyeler, kâh kırlangıç yuvası gibi geçmişin birçok faciasını yaşamış yüksek evler... Bu
şehrin dilleri ve dinleri farklı insanları, bu küçük tatlılardan büyük mutluluklar çıkarmasını bilirdi.

Bu parçaya verilebilecek en uygun başlık aşağıdakilerden hangisidir?

- A) Selanik ve Milliyetçilik
- B) Selanik ve Milli Mücadele
- C) Selanik ve Kültürel Zenginlik
- D) Selanik'in Jeopolitik Konumu



2. Erzurum Kongresi'nde alınan,

- Millî sınırlar içinde vatan bir bütündür, bölünemez.
- Kuva-yı Milliye'yi tek kuvvet olarak tanımak ve millî iradeyi hakim kılmak esastır.
- Manda ve himaye kabul edilemez.

kararlarından hareketle aşağıdakilerden hangisi söylenemez?

- A) Yönetim sisteminin değiştirileceğine işaret edilmiştir.
B) Osmanlı Hükûmeti'nin denetlenmesi amaçlanmıştır.
C) "Vatanın bütünlüğü" ilkesine vurgu yapılmıştır.
D) "Tam bağımsızlık" ilkesi dile getirilmiştir.



3.



1935 Milletvekili Seçimlerinde Vatandaşlar Oy Kullanırken

Bu fotoğraf dikkate alındığında Cumhuriyetin ilk yılları için,

- I. Türk kadınına seçme hakkının verildiği
- II. Ülke yönetiminde halkın söz sahibi olduğu
- III. Tek dereceli seçim sisteminin uygulandığı

yargılarından hangileri çıkarılamaz?

- A) Yalnız I.
C) I ve II.

- B) Yalnız III.
D) II ve III.

4. Tevhid-i Tedrisat Kanunu'nun kabul edilmesinden sonra yabancı okullar Türkiye için bir sorun hâline gelmiştir. 1925 yılında bu okullarda;

- Tarih, coğrafya ve yurttaşlık bilgisi derslerinin Türk öğretmenler tarafından okutulması,
- Türk müfettişlerce denetlenmesi,
- Derslerde Türklük aleyhinde ifadelerin yer almaması

kararları alınmıştır.

Buna göre Türkiye'nin, yabancı okullar konusunda sergilediği tutumla aşağıdakilerden hangisini amaçladığı söylenebilir?

- A) Eğitim kalitesini artırmayı
- B) Kapatılmalarını sağlamayı
- C) Millî kültüre zarar verilmesini önlemeyi
- D) Laikliğe uygun eğitim yapılmasını sağlamayı



5. Atatürk'ün Osmanlı'nın son yenilmez pehlivanı Kurtdereli Mehmet Efendi'ye yazdığı mektuptan:

Seni cihanda büyük ün almış bir Türk güreşçisi olarak tanıdım. Parlak başarılarının sırrını şu sözlerle açıkladığını da öğrendim: "Güreşirken bütün milletimi arkamda hisseder ve milletimin şerefini korumak için herşeyi yapardım. Ve sanki bütün milletimin kuvvetinin yanımda olduğunu hissederdim." Bu dediğini en az yaptıkların kadar beğendim. Onun için senin bu değerli sözünün Türk sporcularına bir meslek ilkesi olmasını diliyorum.

Bu mektuba göre Atatürk Türk sporcularına aşağıdakilerden hangisini tavsiye etmektedir?

- A) Sporun yalnızca yeteneğe bağlı kalması gerektiğini
- B) Sporcunun milli heyecan içinde yetişmesi gerektiğini
- C) Sporun sadece başarıyı esas alması gerektiğini
- D) Ata sporlarımızdan güreşe daha fazla önem verilmesi gerektiğini



Din Kültürü ve Ahlak Bilgisi Örnek Soruları

1. Yetiştirdiği mısırlarla her yıl “en kaliteli mısır” ödülünü alan bir çiftçi bu mısırların tohumlarını, ekmeleri için komşularına da dağıtmaktadır. Bunu öğrenen bir gazeteci, çiftçiye şöyle sorar: “Seninle her yıl aynı yarışmaya giren komşularına, kaliteli tohumlarından vermeyi nasıl göze alabiliyorsun?” Çiftçi şu cevabı verir: “Yoksa bilmiyor musunuz? Olgunlaşan mısırların polenleri farklı yollarla tarlalara dağılır. Eğer komşularım kalitesiz mısır yetiştirirse benim ürettiğim mısırların kalitesinde çapraz tozlaşmanın etkisiyle her geçen yıl düşer. Kaliteli mısır yetiştirmek istiyorsam komşularıma da kaliteli mısır yetiştirmeleri için yardım etmeliyim.”

Bu çiftçinin, farklı tarlaları bir bütünün parçaları olarak görmesi gibi Hz. Muhammed de (sav.) Müslümanları aynı beden organları olarak görür. Organlar arasındaki bağ ne kadar sağlıklı ve güçlü olursa beden de o derece güçlü olur. Bu sebeple İslam dini, insanların birbirleriyle yardımlaşmasını, dayanışma içinde olmasını ve iyi ilişkiler kurmasını ister.

Bu metin, evrendeki;

- I. toplumsal,
- II. biyolojik,
- III. fiziksel

yasalardan hangileriyle ilgili bilgi içermektedir?

- A) Yalnız I. B) Yalnız III. C) I ve II. D) I, II ve III.

2. Osmanlı ve Selçuklu Dönemi'nde şehirlerin belirli noktalarına konan "sadaka taşları", İslam dininin insanlar arasındaki gelir eşitsizliğini gidermek amacıyla emrettiği yardımlaşmanın büyük bir incelikle yerine getirilmesini sağlıyordu. Cami avlularının en kuytu köşesine konan silindirik şeklindeki bu taşın üst kısmında küçük bir oyuk bulunurdu. İmkânı olan insanlar, bu oyuğa bıraktıkları sadakalarla yoksullara, onları rencide etmeden el uzatıyordu.

Bu metinde sözü edilen gelenek aşağıdaki hadislerden hangisinin mesajıyla örtüşmektedir?

- A) Sadaka, malı bereketlendirir.
B) Sağ elin verdiği sol el görmesin.
C) Rızkının bol olmasını isteyen sadaka versin.
D) Sadaka, suyun ateşi söndürdüğü gibi hataları yok eder.



3. Ey iman edenler! İki, kumar, dikili taşlar ve fal okları şeytan işi, iğren şeylerdir. Bunlardan kaçının ki kurtuluşa eresiniz.
(Mâide suresi, 90. ayet)

Bu ayet, İslam'ın;

- I. malın,
- II. dinin,
- III. aklın

korunması ilkelerinden hangileriyle ilgili mesajlar içermektedir?

- A) I ve II. B) I ve III. C) II ve III. D) I, II ve III.



4. • “Biz gökleri, yeri ve bunlar arasında bulunanları oyun ve eğlence olsun diye yaratmadık.” (Enbiyâ suresi, 16. ayet)
- “Göklerin ve yerin yaratılışında, gece ile gündüzün birbiri ardınca gelip gidişinde selim akıl sahipleri için elbette ibretler vardır.” (Â-i İmrân suresi, 190. ayet)

Bu ayetlerden aşağıdaki yargıların hangisine ulaşamaz?

- A) Evrenin yaratıcısı Allah'tır.
B) Yaratılan her şeyin bir sonu vardır.
C) Kur'an, aklın kullanılmasını teşvik eder.
D) Her varlık bir amaç doğrultusunda yaratılmıştır.



5. • Ben âlemlere rahmet olarak gönderildim.
- Güneş'i sağ elime, Ay'ı da sol elime koysalar yine de yolumdan dönmem.
- Ey Müslümanlar, şayet birinize haksız bir muamelede bulunmuşsam onu ödemeye hazırım. Kimin hakkı varsa işte şahsım, işte malım; gelsin, alsın.

Bu hadislerden Hz. Muhammed'in (sav.) kişilik özellikleri ile ilgili aşağıdaki yargılardan hangisine ulaşamaz?

- A) Affedicidir.
- B) Kararlıdır.
- C) Adaletlidir.
- D) Merhametlidir.



İngilizce Örnek Soruları

Answer the question according to Fiona's talk.

1.



Fiona

I work in a big city so holidays are important for me. I prefer summer holidays. I love the sea and the beach but historic places attract me most. I have exciting plans for next summer. First, I am going to visit an ancient city because I like walking through old cities and learning about different cultures. Then, I will go to a beautiful hotel by the beach and swim every day.

Where is she going to start her holiday?



Answer the questions 2 and 3 according to the brochure.

2.

TRAVEL TO TURKEY

BALIKESİR

It's famous for Mount Ida (Kazdağı), special desserts, seafood and local bazaars. You can enjoy swimming and the beautiful beaches.

RİZE

Rize is famous for its natural beauties. Its most important features are: tea gardens, fish (hamsi) and local folk dance (horon). There are so many routes to go trekking.

ADIYAMAN

It is a city of culture and ancient cities. Mount Nemrut is on the World Heritage List. It is also worth going for its local bazaars and of course its delicious food, especially meatballs (çiğ köfte).

VAN

Van is not by the sea, but it has Turkey's biggest lake. It is one of the best places for rafting and paragliding. Local bazaars and its famous breakfast attract many local and foreign tourists.

After Andrew saw the brochure, he decided to go to Turkey because he studies history at university. He thinks this trip will be useful for his lessons.

Which city should he go?

- A) Adiyaman
- B) Balıkesir
- C) Rize
- D) Van

3. Complete the sentence.

In all the cities, a tourist can - - - - .

- A) enjoy extreme sports
- B) see an ancient city
- C) do water sports
- D) taste local food



Complete the sentence according to the information on the website.

4.

How To Travel

- ◆ Around the city: Travelling by bus is cheap, but it isn't the fastest way.

What to do

- ◆ Explore Ancient Rome
- ◆ Enjoy the countryside
- ◆ Try different types of pasta
- ◆ Attend a traditional food festival



Where to stay

- ◆ Choose a hotel around the places you will go, so you can walk and enjoy the streets in the city.
- ◆ Try staying in the countryside.

When to visit

- ◆ There's really no "bad" time to visit Italy. You can enjoy Italy the whole year. Especially in April to July.

On the website, you can find information about - - - .

- A) cheaper accommodation tips
- B) appropriate months to go to Italy
- C) activities that local people enjoy most
- D) fastest transportation way to the countryside

Complete the sentence according to the text below.

5.

Canoeing is a very exciting experience, but you must plan your trip very carefully...

- Take a course because you need to learn safety rules.
- Get appropriate things to wear for all weather conditions.
- Don't forget to take food and water with you.
- The trip starts with choosing the right place.
- Choose the right kind of boat.

You are ready for a wonderful experience.

There is no information about - - - - .

- A) clothes
- C) climate

- B) equipment
- D) training

CEVAP ANAHTARI

TÜRKÇE

1. B
2. D
3. D
4. A
5. D
6. C
7. C
8. B
9. C
10. C

T.C. İNKILAP TARİHİ VE ATATÜRKÇÜLÜK

1. C
2. B
3. B
4. C
5. B

DİN KÜLTÜRÜ VE AHLAK BİLGİSİ

1. C
2. B
3. D
4. B
5. A

İNGİLİZCE

1. B
2. A
3. D
4. B
5. C